

# Módulo de Função Afim

Noções Básicas.

9º ano E.F.



## 1 Exercícios Introdutórios

**Exercício 1.** Em certa cidade, uma corrida de táxi custa R\$ 4,80 a bandeirada, mais R\$ 0,40 por quilômetro rodado. Quanto custa uma corrida de 50 quilômetros?

**Exercício 2.** O grau Fahrenheit (símbolo:  $^{\circ}F$ ) é uma escala de temperatura proposta por Daniel Gabriel Fahrenheit em 1724. Nesta escala, o ponto de fusão da água ( $0^{\circ}C$ ) é de  $32^{\circ}F$  e o ponto de ebulição da água ( $100^{\circ}C$ ) é de  $212^{\circ}F$ . Sabendo que a temperatura na escala Fahrenheit é dada por uma função afim da escala Celsius, determine em qual temperatura na escala Celsius ambas assinalam o mesmo valor numérico?

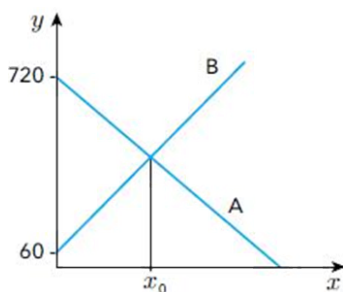
**Exercício 3.** O custo total, por mês, de um serviço de fotocópias, com cópias do tipo A4, consiste de um custo fixo acrescido de um custo variável. O custo variável depende, de forma diretamente proporcional, da quantidade de páginas reproduzidas. Em um mês em que esse serviço fez 50000 cópias, seu custo total foi de R\$ 21000,00; enquanto que em um mês em que fez 20000 cópias, seu custo total foi de R\$ 19200,00. Supondo que o custo por página seja o mesmo nos meses mencionados, determine-o.

**Exercício 4.** Um experimento de Agronomia mostra que a temperatura média da superfície do solo  $t(x)$ , em  $^{\circ}C$ , é determinada em função do resíduo  $x$  de planta e biomassa na superfície, em  $g/m^2$ , conforme registrado na tabela seguinte.

$x[g/m^2]$	10	20	30	40	50	60	70
$t(x)[^{\circ}C]$	7,24	7,30	7,36	7,42	7,48	7,54	7,60

Qual a lei de formação da função  $t(x)$ ?

**Exercício 5.** O reservatório  $A$  perde água a uma taxa constante de 10 litros por hora, enquanto o reservatório  $B$  ganha água a uma taxa constante de 12 litros por hora. No gráfico, estão representados, no eixo  $y$ , os volumes, em litros, da água contida em cada um dos reservatórios, em função do tempo, em horas, representado no eixo  $x$ . Determine o tempo  $x_0$ , em horas, indicado no gráfico.



## 2 Exercícios de Fixação

**Exercício 6.** “Em fevereiro, o governo da Cidade do México, metrópole com uma das maiores frotas de automóveis do mundo, passou a oferecer à população bicicletas como opção de transporte. Por uma anuidade de 24 dólares, os usuários têm direito a 30 minutos de uso livre por dia. O ciclista pode retirar em uma estação e devolver em qualquer outra e, se quiser estender a pedalada, paga 3 dólares por hora extra.” (Revista Exame. 21 abr. 2010.)

A expressão que relaciona o valor  $f$  pago pela utilização da bicicleta por um ano, quando se utilizam  $x$  horas extras nesse período é:

- a)  $f(x) = 3x$ .  
 b)  $f(x) = 24$ .  
 c)  $f(x) = 27$ .  
 d)  $f(x) = 3x + 24$ .  
 e)  $f(x) = 24x + 3$ .

**Exercício 7.** Em uma corrida de táxi é cobrado um valor inicial chamado de a bandeirada, mais uma quantia proporcional por quilômetro rodado. Se por uma corrida de 8 km paga-se R\$ 28,50 e por uma corrida de 5 km paga-se R\$ 19,50. Qual o valor da bandeirada?

**Exercício 8.** Duas pessoas combinaram de se encontrar entre 13 h e 14 h, no exato instante em que a posição do ponteiro dos minutos do relógio coincidissem com a posição do ponteiro das horas. Dessa forma, qual o horário que o encontro foi marcado?

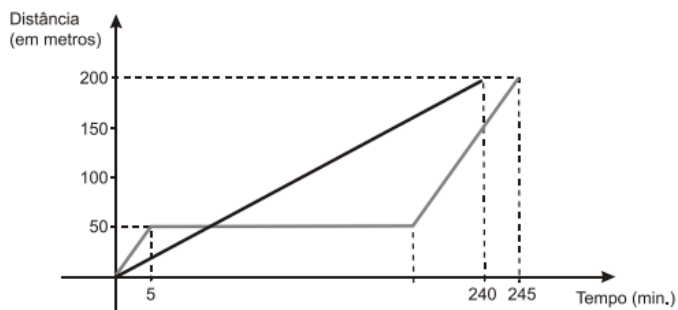
**Exercício 9.** Cláudio, gerente capacitado de uma empresa que produz e vende instrumentos musicais, contratou uma consultoria para analisar o sistema de produção. Os consultores, após um detalhado estudo, concluíram que o custo total de produção de  $x$  flautas de determinado tipo pode ser expresso pela função  $C(x) = 2400 + 36x$ , sendo R\$ 2400,00 o custo fixo. Atualmente a empresa vende 60 flautas daquele tipo por mês, ao preço de R\$ 120,00 por unidade. O trabalho da empresa de consultoria demonstrou, também, que um gasto extra de R\$ 1200,00 em publicidade provocaria um aumento de 15% no volume atual de vendas das flautas. Na sua opinião, Cláudio deveria autorizar o gasto extra em publicidade?

**Exercício 10.** Considere três pontos distintos  $A$ ,  $B$  e  $C$  no plano cartesiano. Mostre que se suas coordenadas satisfazem a equação  $y = ax + b$ , então esses pontos estão alinhados e, em seguida, conclua que o gráfico de uma função afim é sempre uma reta.

**Exercício 11.** Uma função  $f$  definida de  $\mathbb{R}_+$  em  $\mathbb{R}_+$ , crescente, satisfaz a equação  $f(5x) = 5f(x)$  para todo  $x$  real não-negativo. Se  $f(25) = 125$ , então qual o valor de  $f(1)$ ?

### 3 Exercícios de Aprofundamento e de Exames

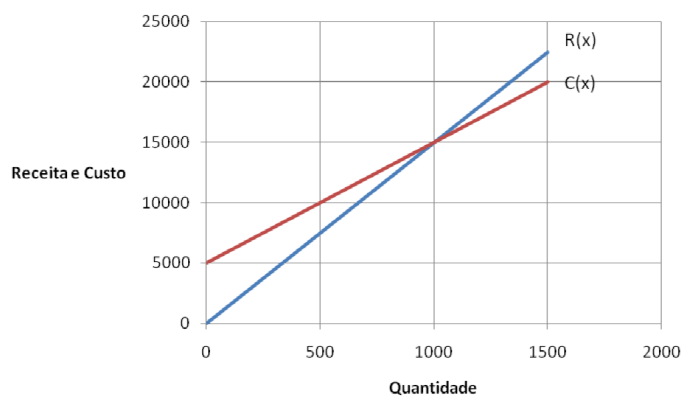
**Exercício 12.** A fábula da lebre e da tartaruga, do escritor grego Esopo, foi recontada utilizando-se o gráfico abaixo para descrever os deslocamentos dos animais.



Suponha que na fábula lebre e a tartaruga apostam uma corrida em uma pista de 200 metros de comprimento. As duas partem do mesmo local no mesmo instante. A tartaruga anda sempre com velocidade constante. A lebre corre por 5 minutos, para, deita e dorme por certo tempo. Quando desperta, volta a correr com a mesma velocidade constante de antes, mas, quando completa o percurso, percebe que chegou 5 minutos depois da tartaruga. Considerando essas informações,

- determine a velocidade média da tartaruga durante esse percurso, em metros por hora.
- determine após quanto tempo da largada a tartaruga alcançou a lebre.
- determine por quanto tempo a lebre ficou dormindo.

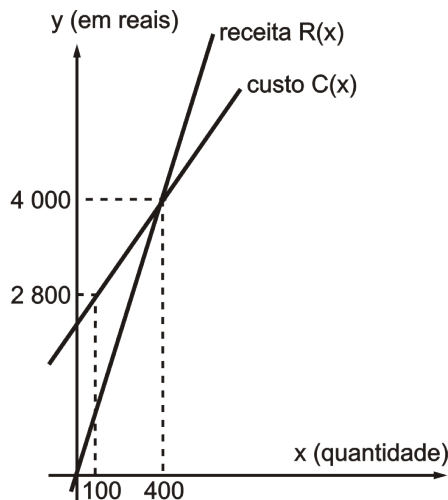
**Exercício 13.** Os gráficos abaixo representam as funções receita mensal  $R(x)$  e custo mensal  $C(x)$  de um produto fabricado por uma empresa, em que  $x$  é a quantidade produzida e vendida. Qual o lucro obtido ao se produzir e vender 1350 unidades por mês?



**Exercício 14.** Os preços dos ingressos de um teatro nos setores 1, 2 e 3 seguem uma função polinomial do primeiro grau crescente com a numeração dos setores. Se o preço do ingresso no setor 1 é de R\$ 120,00 e no setor 3 é de R\$ 400,00, então qual o preço do ingresso no setor 2?

**Exercício 15.** Considerando um intervalo de tempo de 10 anos a partir de hoje, o valor de uma máquina deprecia linearmente com o tempo, isto é, o valor da máquina  $y$  em função do tempo  $x$  é dado por uma função polinomial do primeiro grau  $y = ax + b$ . Se o valor da máquina daqui a dois anos for R\$ 6400,00, e seu valor daqui a cinco anos e meio for R\$ 4300,00, qual será o seu valor daqui a sete anos?

**Exercício 16.** Paulo é um fabricante de brinquedos que produz determinado tipo de carrinho. A figura a seguir mostra os gráficos das funções custo total e receita, considerando a produção e venda de  $x$  carrinhos fabricados na empresa de Paulo.



- Existem custos tais como: aluguel, folha de pagamento dos empregados e outros, cuja soma denominamos custo fixo, que não dependem da quantidade produzida, enquanto a parcela do custo que depende da quantidade produzida, chamamos de custo variável. A função custo total é a soma do custo fixo com o custo variável. Na empresa de Paulo, qual o custo fixo de produção de carrinhos?
- A função lucro é definida como sendo a diferença entre a função receita total e a função custo total. Quantos carrinhos Paulo tem que vender para obter um lucro de R\$ 2.700,00?
- A diferença entre o preço pelo qual a empresa vende cada carrinho e o custo variável por unidade é chamada de margem de contribuição por unidade. Portanto, no que diz respeito aos carrinhos produzidos na fábrica de Paulo, qual a margem de contribuição por unidade?

**Exercício 17.** Se a função  $f : \mathbb{R} \rightarrow \mathbb{R}$  é tal que

$$f(x - f(y)) = 1 - x - y,$$

para quaisquer  $x$  e  $y$  reais, mostre que  $f$  é uma função afim.

## Respostas e Soluções.

### 1. (Extraído da Vídeo Aula)

Observe que o preço da corrida “P” pode ser dado em função da quantidade “x” de quilômetros rodados pela fórmula

$$P(x) = 0,4x + 4,8.$$

Como foram rodados 50 quilômetros, basta substituir o x por esse valor obtendo

$$\begin{aligned}P(x) &= 0,4x + 4,8 \\P(50) &= 0,4 \cdot 50 + 4,8 \\&= 20 + 4,8 \\&= 24,8 \text{ reais.}\end{aligned}$$

2. Se “f(x)” é o grau Fahrenheit associado ao grau Celsius “x”, podemos concluir que  $f(0) = 32$  e  $f(100) = 212$ . Substituindo esses valores em  $f(x) = ax + b$  teremos

$$\begin{cases} 32 = a \cdot 0 + b \\ 212 = a \cdot 100 + b, \end{cases}$$

Resolvendo o sistema, obtemos  $b = 32$  e  $a = 1,8$ . Assim  $f(x) = 1,8x + 32$ . Se  $f(x) = x$  temos

$$\begin{aligned}f(x) &= 1,8x + 32 \\x &= 1,8x + 32 \\0,8x &= -32 \\x &= -40^\circ \text{ C.}\end{aligned}$$

Ou seja,  $-40^\circ \text{ C} = -40^\circ \text{ F}$ .

### 3. (Extraído da Vídeo Aula)

Sendo  $f(x) = ax + b$  o preço pago por x cópias e transformando as relações suprimindo as casas dos milhares, obteremos as seguintes relações  $f(50) = 21$  e  $f(20) = 19,2$  e o seguinte sistema

$$\begin{cases} 21 = a \cdot 50 + b \\ 19,2 = a \cdot 20 + b, \end{cases}$$

Resolvendo o sistema, temos  $a = \frac{3}{50} = 0,06$  e  $b = 18$ . Por fim, cada cópia custa 6 centavos.

### 4. (Adaptado da vídeo aula)

Observe na tabela que a cada  $\Delta x = 10$  unidades há um  $\Delta t = 0,06$ . Então, essa é uma função afim com  $a = \frac{0,06}{10}$ . Agora para o b basta calcularmos o valor de  $t(0)$ , completado a tabela com mais uma variação, só que no sentido oposto.

$x[g/m^2]$	0	10	20
$t(x)[^\circ\text{C}]$	$7,24 - 0,06$	$7,24$	$7,30$

Logo,  $b = 7,18$  e  $t(x) = 0,06x + 7,18$ .

### 5. (Extraído da UERJ – 2014)

Na figura,  $x_0$  é o momento que os dois reservatório estão com o mesmo volume “V”. Como A toca no eixo y em 720, então  $b_A = 720$  e da interpretação do enunciado  $a_A = -10$  então  $V_A(x) = -10x + 720$ . Analogamente,  $b_B = 60$  e  $a_B = 12$ , então  $V_B(x) = 12x + 60$ . Queremos o  $x_0$  tal que  $V_A(x_0) = V_B(x_0)$ . Temos então

$$\begin{aligned}V_A(x_0) &= V_B(x_0) \\-10x_0 + 720 &= 12x_0 + 60 \\22x_0 &= 660 \\x_0 &= 30 \text{ horas.}\end{aligned}$$

### 6. (Extraído do ENEM)

Temos um valor fixo inicial  $b = 24$  e, quando de utilizam x horas, adicionamos o valor  $3x$ , pois cada hora extra custa  $a = 3$  dólares. Logo, a função será  $f(x) = 3x + 24$  e a resposta está na **letra D**.

### 7. (Extraído da Vídeo Aula)

Podemos criar as seguintes relações  $f(8) = 28,50$  e  $f(5) = 19,5$ . Se  $f(x) = ax + b$ , podemos escrever o sistema:

$$\begin{cases} 28,5 = a \cdot 8 + b \\ 19,5 = a \cdot 5 + b, \end{cases}$$

Resolvendo-o, obtemos  $a = 3$  e  $b = 4,5$ . Então, a bandeirada custa R\$ 4,50.

### 8. (Adaptado do vestibular da FGV – 2012)

O ponteiro dos minutos se desloca  $360^\circ$  em uma hora, isto é,  $\frac{360}{60} = 6^\circ$  por minuto. Sendo M o deslocamento do ponteiro grande do relógio em x minutos, teremos  $M(x) = 6x$ . Para o ponteiro das horas teremos um deslocamento de  $\frac{360}{12} = 30^\circ$  por hora, ou seja,  $\frac{30}{60} = 0,5^\circ$  por minuto, mas já se passou uma hora, então o ponteiro das horas já andou  $30^\circ$ . Denominando H o deslocamento do ponteiro pequeno em x minutos, chegamos a  $H(x) = 0,5x + 30$ . Queremos saber quando os ponteiros estarão sobrepostos, isso acontece quando  $M(x) = H(x)$ , desenvolvendo essa

última chegaremos a

$$\begin{aligned}M(x) &= H(x) \\6x &= 0,5x + 30 \\5,5x &= 30 \\x &= \frac{30}{5,5} \\x &= \frac{60}{11} = 5\frac{5}{11} \text{ min.}\end{aligned}$$

Ou seja, eles se encontrarão às 13 h e  $5\frac{5}{11}$  min.

**9.** (Extraído do vestibular da FGV)

Inicialmente, para vender 60 flautas temos o custo de  $2400 + 36 \cdot 60 = 4560$  e após a venda de todas ficamos com uma receita de  $60 \cdot 120 = 7200$ . O lucro ficou em  $7200 - 4560 = 2640$ . Se houver gastos com publicidade, o número de flautas vendidas subirá 15% (fator de crescimento 1,15) e chegaremos a  $1,15 \cdot 60 = 69$  flautas, com custo total de  $1200 + 2400 + 36 \cdot 69 = 6084$  reais e nova receita de  $69 \cdot 120 = 8280$ . Assim, o lucro será de  $8280 - 6084 = 2196$  reais. Cláudio não deve autorizar o gasto com publicidade visto que o lucro no primeiro caso foi maior.

**10.** A distância entre dois pontos pode ser calculada pela fórmula  $d = \sqrt{(\Delta x)^2 + (\Delta y)^2}$ . Se  $(x_A, a_A)$ ,  $(x_B, a_B)$  e  $(x_C, a_C)$  representam as coordenadas dos três pontos, temos

$$\begin{aligned}d_{A,B} &= (x_B - x_A)\sqrt{1 + a^2} \\d_{B,C} &= (x_C - x_B)\sqrt{1 + a^2} \\d_{A,C} &= (x_C - x_A)\sqrt{1 + a^2}.\end{aligned}$$

Somando as duas primeiras equações, teremos que

$$\begin{aligned}d_{A,B} + d_{B,C} &= (x_B - x_A)\sqrt{1 + a^2} + (x_C - x_B)\sqrt{1 + a^2} \\&= (x_C - x_A)\sqrt{1 + a^2} \\&= d_{A,C}.\end{aligned}$$

Pela Desigualdade Triangular, segue que  $A$ ,  $B$  e  $C$  estão alinhados. Como isso vale para quaisquer três pontos do gráfico de uma Função Afim, podemos concluir que seu gráfico é uma reta. ■

**11.** (Extraído da Vídeo Aula)

Como  $f(5x) = 5f(x)$ , segue que

$$\begin{aligned}125 &= f(25) \\&= 5f(5) \\&= 25f(1).\end{aligned}$$

Portanto  $f(1) = 5$ .

**12.** (Extraído da UFMG – 2013)

a) Observe que a tartaruga completou os 200 metros em 240 minutos, ou seja, em 4 horas. Portanto, sua velocidade média foi de  $\frac{200}{4} = 50$  metros por hora.

b) A lebre correu 50 metros e parou para dormir. A função  $f$  que determina a quantidade de metros percorridos pela tartaruga em função do tempo  $t$  em minutos é  $f(t) = \frac{200}{240}t$ . Como queremos saber em quanto tempo a tartaruga percorreu 50 metros, temos

$$\begin{aligned}\frac{200}{240}t &= 50 \\t &= 60 \text{ min} = 1 \text{ h.}\end{aligned}$$

c) A lebre percorreu 50 m em 5 min, logo sua velocidade média foi de 10 metros por minuto. Para percorrer 200, ela deveria gastar 20 min, como gastou 245, então ela dormiu  $245 - 20 = 225$  min.

**13.** (Extraído do vestibular da FGV – 2012)

Interpretando os gráficos, teremos que a função  $R(x) = a_R \cdot x + b_R$  tem  $b_R = 0$  e, como  $R(1000) = 15000$ , teremos  $a_R = 15$ . Portanto, obtemos  $R(x) = 15x$ . Agora, se  $C(x) = a_C \cdot x + b_C$ , teremos  $b_C = 5000$  e  $a_C = \frac{15000 - 5000}{1000 - 0} = 10$ , ou seja,  $C(x) = 10x + 5000$ . Para calcularmos o lucro basta fazermos

$$\begin{aligned}R(1350) - C(1350) &= 15 \cdot 1350 - (10 \cdot 1350 + 5000) \\&= 20250 - 13500 - 5000 \\&= 1750 \text{ reais.}\end{aligned}$$

**14.** (Adaptado da Vídeo Aula)

Podemos estabelecer uma relação do preço  $P$  em função do setor  $x$ , então  $P(1) = 120$ ,  $P(3) = 400$  e busca-se o valor de  $P(2)$ . Teremos

$$\frac{P(2) - P(1)}{2 - 1} = a = \frac{P(3) - P(1)}{3 - 1} = \frac{400 - 120}{2} = 140.$$

Logo, ficamos com  $P(2) = 120 + 140 = 260$  reais.

**15.** (Adaptado do vestibular da FGV – 2014)

Usando os dados do enunciado, podemos concluir que a taxa de variação do valor será  $a = \frac{4300 - 6400}{5,5 - 2} = -600$  reais por ano. Entre cinco anos e meio e sete anos, haverá uma variação de  $1,5 \times (-600) = -900$  reais e o preço ficará  $4300 - 900 = 3400$  reais.

16. (Adaptado do vestibular da FGV)

Definindo  $C(x) = a_C \cdot x + b_C$  e observando o gráfico da função custo, temos que  $a_C = \frac{4000 - 2800}{400 - 100} = \frac{1200}{300} = 4$ . Sendo assim, para um  $\Delta x = 100$ , essa função terá um  $\Delta C = 400$ , logo teremos que  $b_C = 2400$ . Seja  $R(x) = a_R \cdot x + b_R$  a função receita, pelo gráfico teremos  $b_R = 0$  e  $a_R = \frac{4000}{400} = 10$ .

a) Sendo assim, o custo fixo será de 2400 reais.

b) A função lucro será

$$\begin{aligned}L(x) &= R(x) - C(x) \\ &= 10x - (4x + 2400) \\ &= 6x - 2400.\end{aligned}$$

Para um lucro de 2700 deveremos ter

$$\begin{aligned}6x - 2400 &= 2700 \\ 6x &= 5100 \\ x &= 850 \text{ carrinhos.}\end{aligned}$$

c) O preço de venda é de 10 reais e o preço de custo de 4 reais, portanto a margem de contribuição é de 6 reais.

17. (Adaptado da Olimpíada da Eslovênia) Substituindo  $x = 0$  e  $y = 1$ , temos  $f(-f(1)) = 0$ . Para  $y = -f(1)$ , teremos

$$\begin{aligned}f(x) &= f(x - 0) \\ &= f(x - f(-f(1))) \\ &= 1 - x - (-f(1)) \\ &= -x + (f(1) + 1).\end{aligned}$$

Portando,  $f$  é uma função afim com coeficiente angular  $a = -1$  e termo independente  $b = f(1) + 1$ .